

次の表の関係を完成しなさい。

月 日 () 氏名【

】

	↖	÷	↘	↗ ^x	↙
0.2			0.1		0.3

	↖	÷	↘	↗ ^x	↙
0.2			0.1		0.3

	↖	÷	↘	↗ ^x	↙
0.2			0.1		0.5

	↖	÷	↘	↗ ^x	↙
0.2			0.1		0.5

	↖	÷	↘	↗ ^x	↙
0.2			0.1		0.7

	↖	÷	↘	↗ ^x	↙
0.2			0.1		0.7

	↖	÷	↘	↗ ^x	↙
0.3			0.1		0.2

	↖	÷	↘	↗ ^x	↙
0.3			0.1		0.2

	↖	÷	↘	↗ ^x	↙
0.3			0.1		0.4

	↖	÷	↘	↗ ^x	↙
0.3			0.1		0.5

次の表の関係を完成しなさい。

月 日 () 氏名【

】

0.2	0.1	0.3
2		

0.2		0.3
2		

0.2	0.1	0.5
2		

0.2		0.5
2		

0.2	0.1	0.7
2		

0.2		0.7
2		

0.3	0.1	0.2
3		

0.3		0.2
3		

0.3	0.1	0.4
3		

0.3		0.5
3		

次の表の関係を完成しなさい。

月 日 () 氏名 [

]

0.2	0.1	0.3
2		
20		

0.2	0.1	0.3
2		
10		

0.2	0.1	0.5
2		
20		

0.2	0.1	0.5
2		
100		

0.2	0.1	0.7
2		
20		

0.2	0.1	0.7
2		
200		

0.3	0.1	0.2
3		
30		

0.3	0.1	0.2
3		
15		

0.3	0.1	0.4
3		
30		

0.3	0.1	0.4
3		
300		

次の表の関係を完成しなさい。

月 日 () 氏名【

】

0.2			0.3
20			

0.2			0.3
10			

0.2			0.5
20			

0.2			0.5
100			

0.2			0.7
20			

0.2			0.7
200			

0.3			0.2
30			

0.3			0.2
15			

0.3			0.4
30			

0.3			0.4
300			

次の表の関係を完成しなさい。

月 日 () 氏名 []

0.2			0.3
20			

0.2			0.3
10			

0.2			0.5
20			

0.2			0.5
100			

0.2			0.7
20			

0.2			0.7
200			

0.3			0.2
30			

0.3			0.2
15			

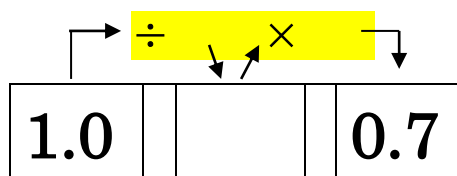
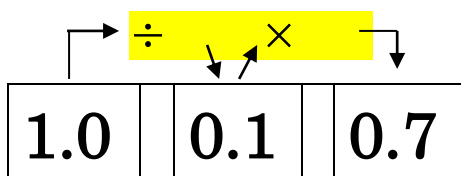
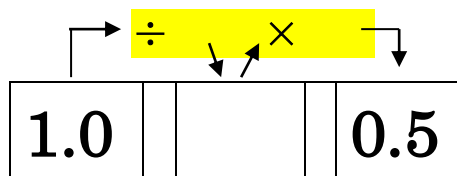
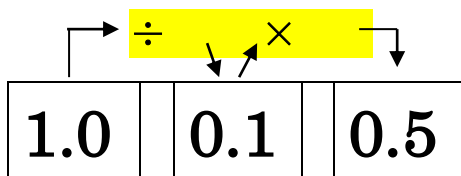
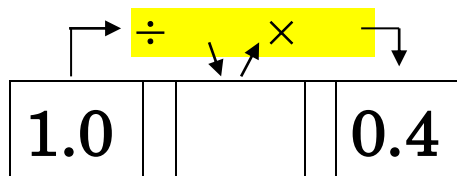
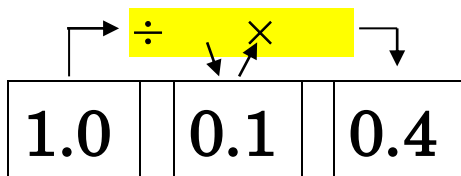
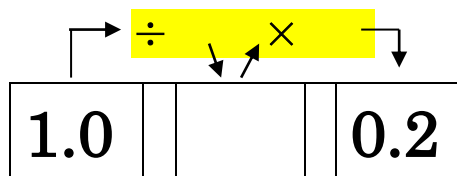
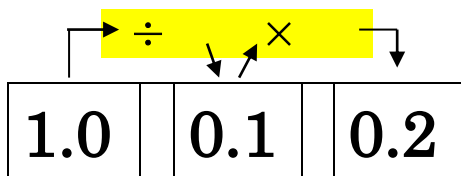
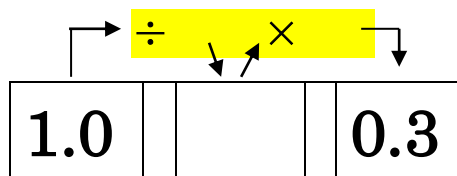
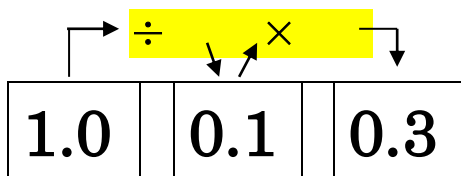
0.3			0.4
30			

0.3			0.4
300			

次の表の関係を完成しなさい。

月 日 () 氏名【

】



次の表の関係を完成しなさい。

月 日 () 氏名【

】

1.0	0.1	0.3
10		

1.0		0.3
10		

1.0	0.1	0.2
10		

1.0		0.2
10		

1.0	0.1	0.4
10		

1.0		0.4
10		

1.0	0.1	0.5
10		

1.0		0.5
10		

1.0	0.1	0.7
10		

1.0		0.7
10		

次の表の関係を完成しなさい。

月 日 () 氏名【

】

1.0		0.1		0.3
10				
20				

1.0		0.1		0.3
10				
30				

1.0		0.1		0.2
10				
20				

1.0		0.1		0.2
10				
30				

1.0		0.1		0.4
10				
30				

1.0		0.1		0.4
10				
40				

1.0		0.1		0.5
10				
30				

1.0		0.1		0.5
10				
40				

1.0		0.1		0.7
10				
50				

1.0		0.1		0.7
10				
60				

次の表の関係を完成しなさい。

月 日 () 氏名【

】

1.0			0.3
20			

1.0			0.3
30			

1.0			0.2
20			

1.0			0.2
30			

1.0			0.4
30			

1.0			0.4
40			

1.0			0.5
30			

1.0			0.5
40			

1.0			0.7
50			

1.0			0.7
60			

次の表の関係を完成しなさい。

月 日 () 氏名 []

1.0	0.1	0.3
20		

1.0	0.1	0.3
30		

1.0	0.1	0.2
20		

1.0	0.1	0.2
30		

1.0	0.1	0.4
30		

1.0	0.1	0.4
40		

1.0	0.1	0.5
30		

1.0	0.1	0.5
40		

1.0	0.1	0.7
50		

1.0	0.1	0.7
60		

次の表の関係を完成しなさい。

月 日 () 氏名 []

1.0			0.3
20			

1.0			0.3
30			

1.0			0.2
20			

1.0			0.2
30			

1.0			0.4
30			

1.0			0.4
40			

1.0			0.5
30			

1.0			0.5
40			

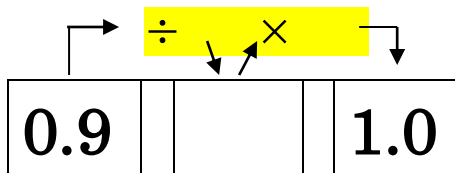
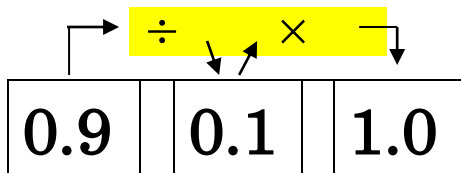
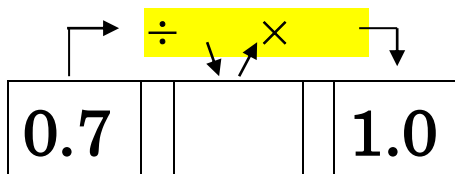
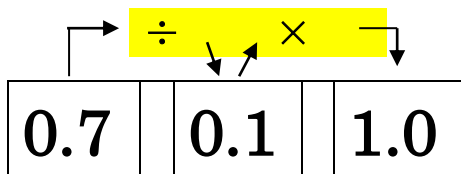
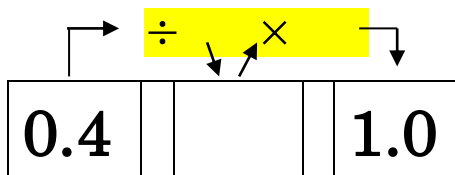
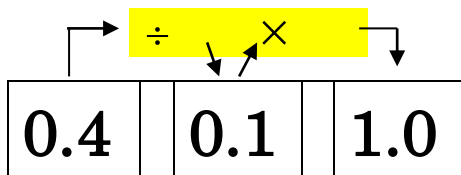
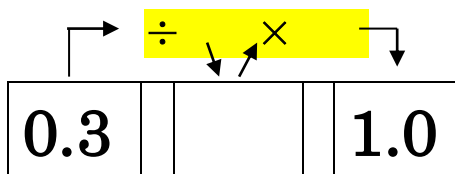
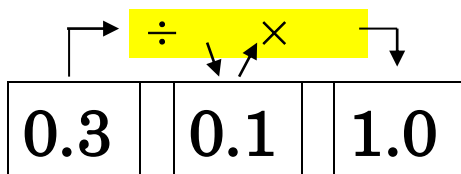
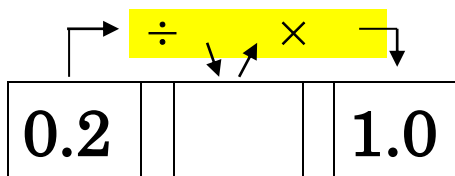
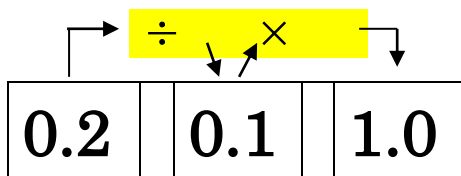
1.0			0.7
50			

1.0			0.7
60			

次の表の関係を完成しなさい。

月 日 () 氏名【

】



次の表の**関係**を完成しなさい。

月 日 () 氏名 []

0.2	0.1	1.0
2		

0.2		1.0
2		

0.3	0.1	1.0
3		

0.3		1.0
3		

0.4	0.1	1.0
4		

0.4		1.0
4		

0.7	0.1	1.0
7		

0.7		1.0
7		

0.9	0.1	1.0
9		

0.9		1.0
9		

次の表の関係を完成しなさい。

月 日 () 氏名【

】

0.2	0.1	1.0
2		
6		

0.2		1.0
6		

0.3	0.1	1.0
3		
6		

0.3		1.0
6		

0.4	0.1	1.0
4		
8		

0.4		1.0
8		

0.7	0.1	1.0
7		
14		

0.7		1.0
14		

0.9	0.1	1.0
9		
18		

0.9		1.0
18		

次の表の関係を完成しなさい。

月 日 () 氏名 []

0.2	0.1	1.0
6		

0.2		1.0
6		

0.3	0.1	1.0
6		

0.3		1.0
6		

0.4	0.1	1.0
8		

0.4		1.0
8		

0.7	0.1	1.0
14		

0.7		1.0
14		

0.9	0.1	1.0
18		

0.9		1.0
18		