

整数編 ニケタのタテ書き掛け算

次の枠の中の式を

$$20 + 1 = 21$$

$$20 + 1 = 21$$

$$21 + 21 = 42$$

と読み、覚えて言いなさい。

次の枠の中の式を

$$20 + 20 = 40$$

$$1 + 1 = 2$$

$$40 + 2 = 42$$

と読み、覚えて言いなさい。

$20 + 1 =$	21
+ ) $20 + 1 =$	21
42	

$20 + 20 =$	40
+ ) $1 + 1 =$	2
42	

上の足し算と下の掛け算を比べなさい。

イ	20
×	2
	40

ア	1
×	2
	2

ウ	21		
×	2	意味	方法
	2	1が2つ	$2 \times 1$
+	40	20が2つ	$2 \times 20$
	42	21が2つ	

整数編 ニケタのタテ書き掛け算

前ページにならって次の式を完成せよ。

$$30 + 1 = \boxed{31}$$

$$30 + 1 = \boxed{31}$$

$$\boxed{31} + \boxed{31} = \boxed{62}$$

と読み、覚えて言いなさい。

$$30 + 30 = \boxed{60}$$

$$1 + 1 = \boxed{2}$$

$$\boxed{60} + \boxed{2} = \boxed{62}$$

と読み、覚えて言いなさい。

$30 + 1 =$	$\boxed{31}$
$+ ) 30 + 1 =$	$\boxed{31}$
	$\boxed{62}$

$30 + 30 =$	$\boxed{60}$
$+ ) 1 + 1 =$	$\boxed{2}$
	$\boxed{62}$

上の足し算と下の掛け算を比べなさい。

$\boxed{1}$	$\boxed{3}$	$\boxed{0}$
$\times$		$\boxed{2}$
	$\boxed{6}$	$\boxed{0}$

$\boxed{1}$		$\boxed{1}$
$\times$		$\boxed{2}$
		$\boxed{2}$

$\boxed{1}$	$\boxed{3}$	$\boxed{1}$		
$\times$		$\boxed{2}$	意味	方法
		$\boxed{2}$	1 が 2 つ	$2 \times \boxed{1}$
$+$	$\boxed{6}$	$\boxed{0}$	30 が 2 つ	$2 \times \boxed{30}$
	$\boxed{6}$	$\boxed{2}$	31 が 2 つ	

整数編 ニケタのタテ書き掛け算

前ページに倣って計算しなさい。

1	2	0
×		2

ア		3
×		2

1	3	0
×		2

ア		1
×		2

	2	3
×		2
		6
+	4	0

	3	1
×		2
+		

1	2	0
×		2

ア		4
×		2

1	3	0
×		2

ア		3
×		2

	2	4
×		2
+		

	3	3
×		2
+		

1	2	0
×		2

ア		5
×		2

1	3	0
×		2

ア		4
×		2

	2	5
×		2
+		

	3	4
×		2
+		

整数編 ニケタのタテ書き掛け算

前ページに倣って計算しなさい。

1	5	0
×		2

ア		3
×		2

1	6	0
×		2

ア		1
×		2

	5	3
×		2

	6	1
×		2

1	5	0
×		2

ア		4
×		2

1	6	0
×		2

ア		6
×		2

	5	4
×		2

	6	6
×		2

1	5	0
×		2

ア		5
×		2

1	6	0
×		2

ア		4
×		2

	5	5
×		2

	6	4
×		2

整数編 ニケタのタテ書き掛け算

前ページに倣って計算しなさい。

1	5	0
×		5

ア		3
×		5

1	6	0
×		5

ア		1
×		5

	5	3
×		5

	6	1
×		5

1	5	0
×		5

ア		4
×		5

1	6	0
×		5

ア		6
×		5

	5	4
×		5

	6	6
×		5

1	5	0
×		5

ア		5
×		5

1	6	0
×		5

ア		4
×		5

	5	5
×		5

	6	4
×		5

整数編 ニケタのタテ書き掛け算

先のページに倣ってこたえない。

	2	3
×		2
<hr/>		
<hr/>		

	5	5
×		2
<hr/>		
<hr/>		

	5	4
×		5
<hr/>		
<hr/>		

	3	3
×		2
<hr/>		
<hr/>		

	6	1
×		2
<hr/>		
<hr/>		

	5	5
×		5
<hr/>		
<hr/>		

	3	4
×		2
<hr/>		
<hr/>		

	6	6
×		2
<hr/>		
<hr/>		

	6	1
×		5
<hr/>		
<hr/>		

	5	3
×		2
<hr/>		
<hr/>		

	6	4
×		2
<hr/>		
<hr/>		

	6	6
×		5
<hr/>		
<hr/>		

	5	4
×		2
<hr/>		
<hr/>		

	5	3
×		5
<hr/>		
<hr/>		

	6	4
×		5
<hr/>		
<hr/>		

整数編 ニケタのタテ書き掛け算

先のページに倣ってこたえない。

	2	2
×		2
<hr/>		
<hr/>		

	7	7
×		2
<hr/>		
<hr/>		

	2	3
×		2
<hr/>		
<hr/>		

	3	3
×		2
<hr/>		
<hr/>		

	8	8
×		2
<hr/>		
<hr/>		

	4	5
×		2
<hr/>		
<hr/>		

	4	4
×		2
<hr/>		
<hr/>		

	9	9
×		2
<hr/>		
<hr/>		

	6	7
×		2
<hr/>		
<hr/>		

	5	5
×		2
<hr/>		
<hr/>		

	1	1
×		2
<hr/>		
<hr/>		

	8	9
×		2
<hr/>		
<hr/>		


	6	6
×		2
<hr/>		
<hr/>		

	5	3
×		2
<hr/>		
<hr/>		

	5	9
×		2
<hr/>		
<hr/>		


整数編 ニケタのタテ書き掛け算

黒い部分を書かずに計算せよ。 以下、左に同じ。

	2	3
×		2
<hr/>		
		6
	4	
	4	6


	5	5
×		2
<hr/>		

	5	4
×		5
<hr/>		

	3	3
×		2
<hr/>		
		6
	6	
	6	6


	6	1
×		2
<hr/>		

	5	5
×		5
<hr/>		

	3	4
×		2
<hr/>		
		


	6	6
×		2
<hr/>		

	6	1
×		5
<hr/>		

	5	3
×		2
<hr/>		
		

	6	4
×		2
<hr/>		

	6	6
×		5
<hr/>		

	5	4
×		2
<hr/>		
		

	5	3
×		5
<hr/>		

	6	4
×		5
<hr/>		



整数編 ニケタのタテ書き掛け算

先のページに倣ってこたえない。

	2	2
×		2
<hr/>		
<hr/>		

	7	7
×		2
<hr/>		
<hr/>		

	2	3
×		2
<hr/>		
<hr/>		

	3	3
×		2
<hr/>		
<hr/>		

	8	8
×		2
<hr/>		
<hr/>		

	4	5
×		2
<hr/>		
<hr/>		

	4	4
×		2
<hr/>		
<hr/>		

	9	9
×		2
<hr/>		
<hr/>		

	6	7
×		2
<hr/>		
<hr/>		

	5	5
×		2
<hr/>		
<hr/>		

	1	1
×		2
<hr/>		
<hr/>		

	8	9
×		2
<hr/>		
<hr/>		

	6	6
×		2
<hr/>		
<hr/>		

	5	3
×		2
<hr/>		
<hr/>		

	5	9
×		2
<hr/>		
<hr/>		

整数編 二ケタのタテ書き掛け算

略式で計算しなさい。

	2	3
×		2

	3	4
×		2

	5	3
×		5

	4	5
×		2

	5	3
×		2

	5	4
×		5

	6	7
×		2

	5	4
×		2

	5	5
×		5

	8	9
×		2

	5	5
×		2

	6	1
×		5

	5	9
×		2

	6	1
×		2

	6	6
×		5

	2	3
×		2

	6	6
×		2

	6	4
×		5

	3	3
×		2

	6	4
×		2

	1	1
×		2