

小学校入学までに
同じ形・同じ大きさの物を数えて
等しい（1倍）、2倍、3倍の
感覚を獲得することが有効です。

5までの個数ならば、
パッとみていくつか判るように
努力してほしい。

以下、入学後を含めての内容です。

学校で数は、

1、2、3 など

文字を使って表していますが、

最初に行うべきは、

具体的な物を数えることです。

声で練習してください。

タテに読みなさい
ヨコにも読みなさい

一

ひとつ	一つ	1つ
ふたつ	二つ	2つ
みっつ	三つ	3つ
よっつ	四つ	4つ
いつつ	五つ	5つ
むっつ	六つ	6つ
ななつ	七つ	7つ
やっつ	八つ	8つ
ここのつ	九つ	9つ
とお	十	10

二

いち	一	1
に	二	2
さん	三	3
し	四	4
ご	五	5
ろく	六	6
しち	七	7
はち	八つ	8つ
きゅう	九つ	9つ
じゅう	十	10

三

下の表を横に読み、覚えなさい。

ひとつ	一つ	1つ	いち	一	1
-----	----	----	----	---	---

むっつ	六つ	6つ	ろく	六	6
-----	----	----	----	---	---

ふたつ	二つ	2つ	に	二	2
-----	----	----	---	---	---

ななつ	七つ	7つ	しち	七	7
-----	----	----	----	---	---

みっつ	三つ	3つ	さん	三	3
-----	----	----	----	---	---

やっつ	八つ	8つ	はち	八	8つ
-----	----	----	----	---	----

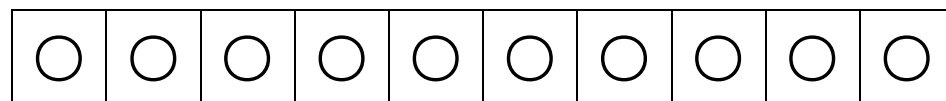
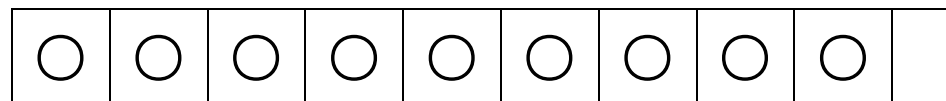
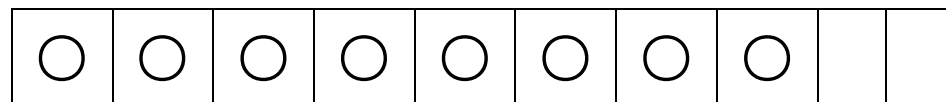
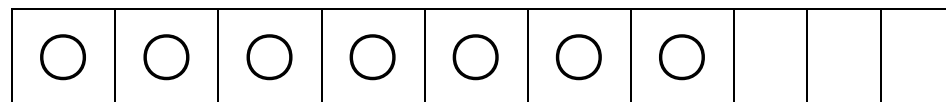
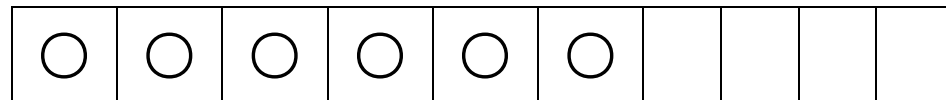
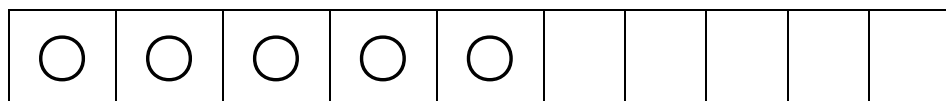


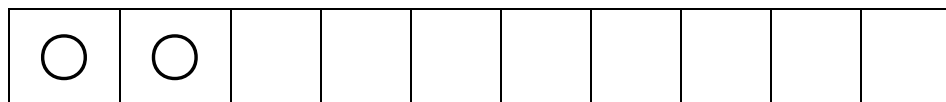
よっつ	四つ	4つ	し	四	4
-----	----	----	---	---	---

ここのつ	九つ	9つ	きゅう	九	9
------	----	----	-----	---	---

いつつ	五つ	5つ	ご	五	5
-----	----	----	---	---	---

とお	十	10	じゅう	十	10
----	---	----	-----	---	----

四 一つ、二つと数えましょう。



一、二、三と数えましょう。

順番をバラバラにして言いなさい。

数図を読むようにしましょう。

「十」と「二」を合わせて
「十二」と言います

「十」と「四」を合わせて
「十四」と言います

「十」と「六」を合わせて
「十六」と言います

「10」と「2」を合わせて
「12」と表す

「10」と「4」を合わせて
「14」と表す

「10」と「6」を合わせて
「16」と表す

「十」と「三」を合わせて
「十三」と言います

「十」と「五」を合わせて
「十五」と言います

「十」と「七」を合わせて
「十七」と言います

「10」と「3」を合わせて
「13」と表す

「10」と「5」を合わせて
「15」と表す

「10」と「7」を合わせて
「17」と表す

十を二つ合わせて

二十と言います

10を2つ合わせて

20と表す

十を三つ合わせて

三十と言います

10を3つ合わせて

30と表す

十を四つ合わせて

四十と言います

10を4つ合わせて

40と表す

十を五つ合わせて

五十と言います

10を5つ合わせて

50と表す

十を六つ合わせて

六十と言います

10を6つ合わせて

60と表す

十を八つ合わせて

八十と言います

10を8つ合わせて

80と表す

11 から 100 までの数を覚えて言いなさい。

十	十	十	十	十	十	十	十	十	二十
一	二	三	四	五	六	七	八	九	

二十	二十	二十	二十	二十	二十	二十	二十	二十	三十
一	二	三	四	五	六	七	八	九	

三十	三十	三十	三十	三十	三十	三十	三十	三十	四十
一	二	三	四	五	六	七	八	九	

四十	四十	四十	四十	四十	四十	四十	四十	四十	五十
一	二	三	四	五	六	七	八	九	

五十	五十	五十	五十	五十	五十	五十	五十	五十	六十
一	二	三	四	五	六	七	八	九	

六十	六十	六十	六十	六十	六十	六十	六十	六十	七十
一	二	三	四	五	六	七	八	九	

七十	七十	七十	七十	七十	七十	七十	七十	七十	八十
一	二	三	四	五	六	七	八	九	

八十	八十	八十	八十	八十	八十	八十	八十	八十	九十
一	二	三	四	五	六	七	八	九	

九十	九十	九十	九十	九十	九十	九十	九十	九十	百
一	二	三	四	五	六	七	八	九	

順に読みなさい。

1	2	3	4	5	6	7	8	9	10
11	12	13	14	15	16	17	18	19	20
21	22	23	24	25	26	27	28	29	30
31	32	33	34	35	36	37	38	39	40
41	42	43	44	45	46	47	48	49	50
51	52	53	54	55	56	57	58	59	60
61	62	63	64	65	66	67	68	69	70
71	72	73	74	75	76	77	78	79	80
81	82	83	84	85	86	87	88	89	90
91	92	93	94	95	96	97	98	99	100

タテにも読みなさい。

時計につながる 5 ずつ の足し算

0	5	10	15	20	25	30
	35	40	45	50	55	60

時計の数字を秒で読む

「長い針 **1** は 5 秒」

「長い針 **2** は 10 秒」

のように、

「長い針 **12** は 60 秒」

まで読みましょう

12	0 秒		
1	5 秒	7	35 秒
2	10 秒	8	40 秒
3	15 秒	9	45 秒
4	20 秒	10	50 秒
5	25 秒	11	55 秒
6	30 秒	12	60 秒
時計 の 数字	秒 長針 秒針	時計 の 数字	秒 長針 秒針

時計の数字を分で読む

12	0分		
1	5分	7	35分
2	10分	8	40分
3	15分	9	45分
4	20分	10	50分
5	25分	11	55分
6	30分	12	60分
時計 の	分 長針	時計 の	分 長針

数字	分針	数字	分針
----	----	----	----

「長い針 1 は 5 分」

「長い針 2 は 10 分」

のように、

「長い針 12 は 60 分」

まで読みましょう

順序数と個数



●は

左から2つ目、右から3つ目、

丸は合わせて 4 つ

$$2+3=5$$

ダブっているのが有るので、

$$5-1=4$$



●は

左から3つ目、右から4つ目、

丸は合わせて 6 つ



●は

左から3つ目、右から5つ目、

丸は合わせて 7 つ

$$3+4=7$$

ダブっているのが有るので、

$$7-1=6$$

$$3+5=8$$

ダブっているのが有るので、

$$8-1=7$$

では、



左から20個目、

右から30個目。

丸は、合わせて幾つか。

カンタンな数の例の時に、

大きな数の時の求め方

を考えなさい。

個数を数える時に使う 2 ずつ の足し算

に 2	し 4	ろ 6	は 8	じゅう 10
じゅうに 12	じゅうし 14	じゅうろく 16	じゅうはち 18	にじゅう 20

九九につながる累加の練習

3の段

3	6	9	12	15	18	21	24	27	30
---	---	---	----	----	----	----	----	----	----

4の段

4	8	12	16	20	24	28	32	36	40
---	---	----	----	----	----	----	----	----	----

6の段

6	12	18	24	30	36	42	48	54	60
---	----	----	----	----	----	----	----	----	----

7の段

7	14	21	28	35	42	49	56	63	70
---	----	----	----	----	----	----	----	----	----

8の段

8	16	24	32	40	48	56	64	72	80
---	----	----	----	----	----	----	----	----	----

9の段

9	18	27	36	45	54	63	72	81	90
---	----	----	----	----	----	----	----	----	----

10の段

10	20	30	40	50	60	70	80	90	100
----	----	----	----	----	----	----	----	----	-----

1	2	3	4	5	6	7	8	9	10
2	4	6	8	10	12	14	16	18	20
3	6	9	12	15	18	21	24	27	30
4	8	12	16	20	24	28	32	36	40
5	10	15	20	25	30	35	40	45	50
6	12	18	24	30	36	42	48	54	60
7	14	21	28	35	42	49	56	63	70
8	16	24	32	40	48	56	64	72	80
9	18	27	36	45	54	63	72	81	90
10	20	30	40	50	60	70	80	90	100

数を 101 からとも言えるように

次の数を読みましょう。

百	百	百	百	百	百	百	百	百	百
一	二	三	四	五	六	七	八	九	十

百	百	百	百	百	百	百	百	百	百
十	一	二	三	四	五	六	七	八	九

百	百	百	百	百	百	百	百	百	百
二	十	一	二	三	四	五	六	七	八

百	百	百	百	百	百	百	百	百	百
三	十	一	二	三	四	五	六	七	八

百	百	百	百	百	百	百	百	百	百
四	十	一	二	三	四	五	六	七	八

百	百	百	百	百	百	百	百	百	百
五	十	一	二	三	四	五	六	七	八

百六十一	百六十二	百六十三	百六十四	百六十五	百六十六	百六十七	百六十八	百六十九	百七十
------	------	------	------	------	------	------	------	------	-----

百七十一	百七十二	百七十三	百七十四	百七十五	百七十六	百七十七	百七十八	百七十九	百八十
------	------	------	------	------	------	------	------	------	-----

百八十一	百八十二	百八十三	百八十四	百八十五	百八十六	百八十七	百八十八	百八十九	百九十
------	------	------	------	------	------	------	------	------	-----

百九十一	百九十二	百九十三	百九十四	百九十五	百九十六	百九十七	百九十八	百九十九	二百
------	------	------	------	------	------	------	------	------	----

数字を 101 から読めるようにしましょう

101	102	103	104	105	106	107	108	109	110
111	112	113	114	115	116	117	118	119	120
121	122	123	124	125	126	127	128	129	130
131	132	133	134	135	136	137	138	139	140
141	142	143	144	145	146	147	148	149	150
151	152	153	154	155	156	157	158	159	160
161	162	163	164	165	166	167	168	169	170
171	172	173	174	175	176	177	178	179	180
181	182	183	184	185	186	187	188	189	190
191	192	193	194	195	196	197	198	199	200

タテでも読みましょう